



Ministero dell'Istruzione, dell'Università e della Ricerca  
**ISTITUTO COMPRESIVO STATALE MARCO POLO**  
Codice fiscale 80126490152 – Cod Mecc.. MIIC8ER00V Codice Univoco UFRY1V  
Sede legale Via Liberazione, 23 -20030 Senago (MI) Tel. 02-99056808  
E-mail MIIC8ER00V@istruzione.it – sito: [www.marcopolosenago.edu.it](http://www.marcopolosenago.edu.it)

Compiti per la settimana dal 9 al 15 marzo 2020

Scuola primaria plesso di via LIBERAZIONE

Classi 1A, 1B, 1C

CIAO BAMBINI, PURTROPPO RIMARREMO ANCORA UNA SETTIMANA A CASA.

IN ATTESA DI RIVEDERCI PRESTO VI MANDIAMO QUALCHE LAVORO.

## **ITALIANO**

1. INCOLLA LA FOTOCOPIA DELLA FILASTROCCA SUL QUADERNO ROSSO.
2. LEGGI CON L'AIUTO DI UN ADULTO, RISCRIVI E RAPPRESENTA CON UN DISEGNO LE PAROLE IN GRASSETTO NELLA PAGINA SUCCESSIVA DEL QUADERNO.
3. COMPLETA LE PAGINE 148 - 149 - 150 - 151 - 158 - 159 SUL LIBRO DELLE LETTERE (ARANCIONE)
4. LEGGI E COMPLETA PAG.29 SUL LIBRO DI LETTURA (ROSSO)
5. VI ALLEGHIAMO UNA SIMPATICA SCHEDA SUI COMPORTAMENTI CORRETTI DA SEGUIRE IN QUESTO PERIODO.

INCOLLATE LA FOTOCOPIA IN BIANCO E NERO SUL QUADERNO, PROVATE A LEGGERLA E COLORATELA A PIACERE!



5. AL SEGUENTE LINK

<https://pin.it/6gfFxxra>

TROVERETE LE INDICAZIONI PER DIVERTIRVI A REALIZZARE UNA O PIU' FARFALLE PER DECORARE LA NOSTRA CLASSE AL RIENTRO A SCUOLA.

**MATEMATICA**

**VEDI LE PAGINE SEGUENTI**

**TRASCRIVI SUL QUADERNO E COMPLETA, SEGUENDO L'ESEMPIO.**

Trova l'arrivo

5	→ →	7
2	→ → →	5
4	→ → →	
7	→ →	
6	→ → →	
5	→	
7		
8	→	
3	→ → →	
4	→ →	
1	→ →	

Trova l'arrivo

2	→ →	
4	→ → →	
7	→ →	
1	→ →	
5	→ → →	
3	→	
6	→ →	
8	→	
1	→ → →	
3	→ →	
6	→ → →	

Trova l'arrivo

1	→ →	
5	→ → →	
3	→ → →	
4	→ →	
2	→ → →	
8	→	
1		
4	→	
4	→ → →	
6	→ →	
3	→ →	

**OSSERVA QUESTA SCHEDA E DISEGNA SUL QUADERNO  
L'INSIEME DEI VEICOLI**






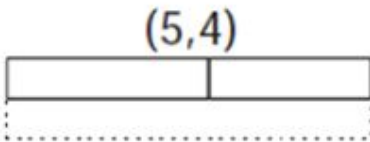




**TRASCRIVI SUL QUADERNO. OSSERVA L'ESEMPIO E COMPLETA.**

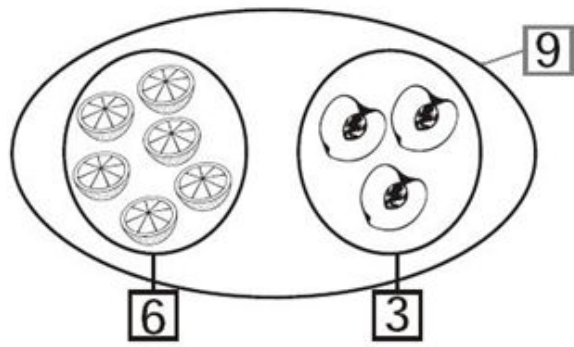
**RICORDATI DI RISPETTARE IL NUMERO DI QUADRETTI QUANDO DISEGNI I REGOLI, POI COLORALI.**




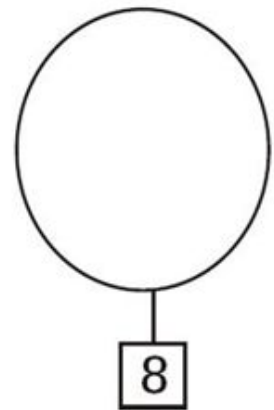
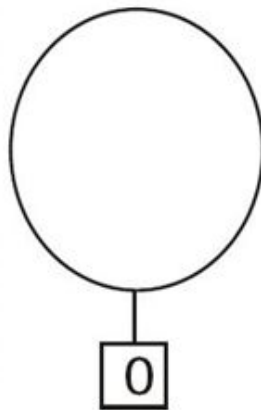
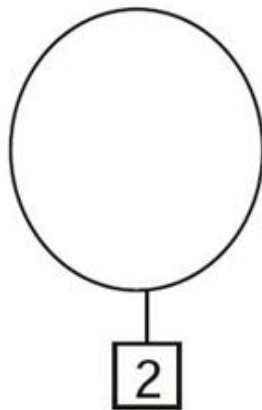
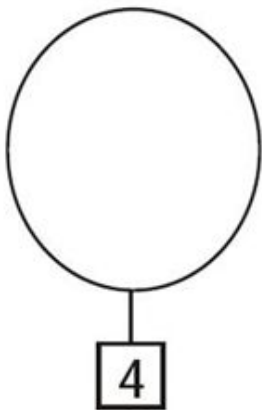


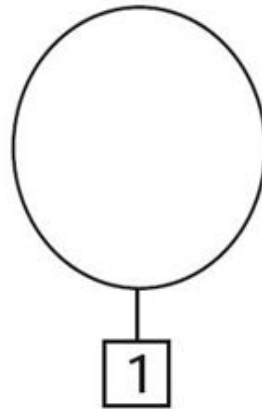
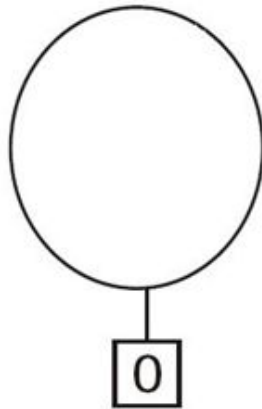
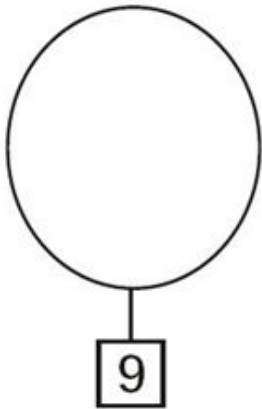
$$3 + 5 = 8$$



**TRASCRIVI SUL QUADERNO E COMPLETA, SEGUENDO L'ESEMPIO**



$$6 + 3 = 9$$



**ESERCITATI ORALMENTE A CONTARE DA 0 A 20 E DA 20 A 0**