



Ministero dell'Istruzione, dell'Università e della Ricerca
ISTITUTO COMPRESIVO STATALE MARCO POLO
Codice fiscale 80126490152 – Cod Mecc.: MIIC8ER00V Codice Univoco UFRY1V
Sede legale Via Liberazione, 23 -20030 Senago (MI) Tel. 02-99056808
E-mail MIIC8ER00V@istruzione.it – sito: www.marcopolosenago.edu.it

Compiti per la settimana dal 9 al 15 marzo 2020

Scuola primaria plesso di via Repubblica

Classi 1A, 1B, 1C

ITALIANO

Se puoi, prima di eseguire i compiti, guarda questi video:

<https://www.youtube.com/watch?v=Fe4yKO4dTck>

https://www.youtube.com/watch?v=jUbY_bfRkK0

- Leggere e completare da pag. 108 a 111 (libro rosso metodo)
- Completa le schede che ti verranno consegnate e incollale sul quaderno rosso.
- Completa tutto il libro “Quaderno dello stampato” secondo le solite modalità
- Leggi la storia

LA FORMICA CAMILLA

NEL BOSCO CUPO LA FORMICA CAMILLA CORRE VERSO CASA.

NELLA CASA DI CAMILLA C'E' UN CAMINO CON IL FUOCO, SUL

CAMINO SI TROVA UNA CANDELA.

A DESTRA DEL CAMINO CI SONO UN SACCO DI GRANO E UN CESTO
CON CAVOLI E CAROTE.

A SINISTRA DEL CAMINO, APPOGGIATA AL MURO, SI TROVA UNA
SCOPA.

A SINISTRA DELLA SCOPA C'E' UNA CULLA.

DAVANTI AL CAMINO C'E' UN TAPPETO.

RISCRIVI SUL QUADERNO LE PAROLE CHE CONTENGONO I SUONI CA CO CU. POI CIRCONDA CON IL ROSSO CA, CON IL GIALLO CO E CON IL NERO CU.

- Quaderno verde: seguendo le modalità avviate in ogni classe, scrivi le consonanti “cielo-prato” e “prato-terra”

CONSONANTI
CIELO - PRATO

L	F	T	D	B	H
↓	↓	↓	↓	↓	↓
l	f	t	d	b	h

l
f
t
d
b
h

CONSONANTI
PRATO - TERRA

P	→	p
G	→	g
Q	→	q

pppp (continua fino in fondo alla riga)

gggg (continua fino in fondo alla riga)

qqqq (continua fino in fondo alla riga)

(COPIA QUESTA PAGINA SUL QUADERNO VERDE. RICORDATI DI FARE LE LINEE AZZURRA, VERDE E MARRONE FUORI DAI MARGINI E SCRIVI LE LETTERE USANDO LE LINEE DEL PRATO E DELLA TERRA)

MATEMATICA

VEDI LE PAGINE SEGUENTI

TRASCRIVI SUL QUADERNO E COMPLETA, SEGUENDO L'ESEMPIO.

Trova l'arrivo

5	→ →	7
2	→ → →	5
4	→ → →	
7	→ →	
6	→ → →	
5	→	
7		
8	→	
3	→ → →	
4	→ →	
1	→ →	


Trova l'arrivo

2	→ →	
4	→ → →	
7	→ →	
1	→ →	
5	→ → →	
3	→	
6	→ →	
8	→	
1	→ → →	
3	→ →	
6	→ → →	

Trova l'arrivo


1	→ →	
5	→ → →	
3	→ → →	
4	→ →	
2	→ → →	
8	→	
1		
4	→	
4	→ → →	
6	→ →	
3	→ →	

**OSSERVA QUESTA SCHEDA E DISEGNA SUL QUADERNO
L'INSIEME DEI VEICOLI**











TRASCRIVI SUL QUADERNO. OSSERVA L'ESEMPIO E COMPLETA.

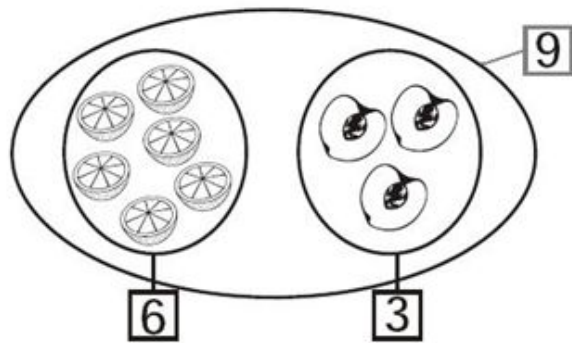
RICORDATI DI RISPETTARE IL NUMERO DI QUADRETTI QUANDO DISEGNI I REGOLI, POI COLORALI.



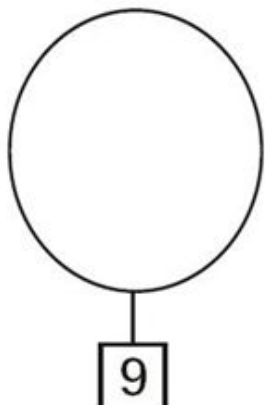
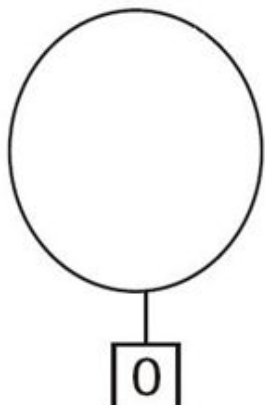
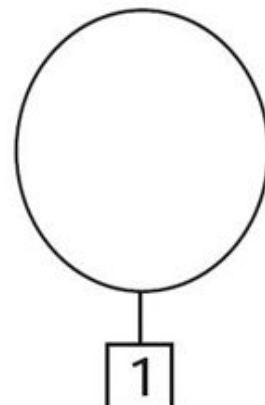
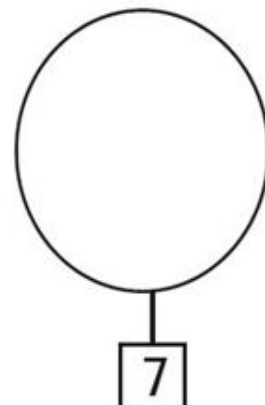


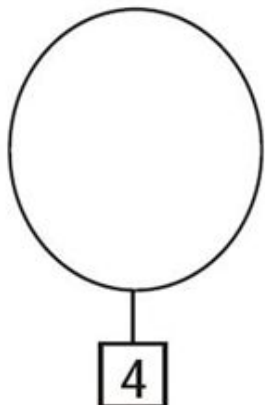
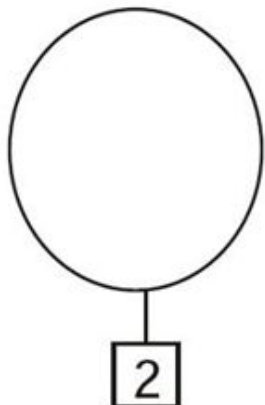
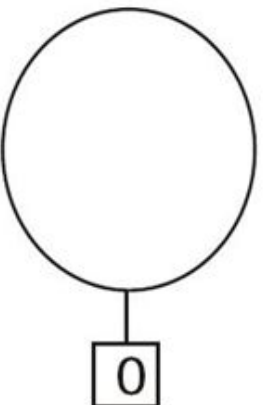
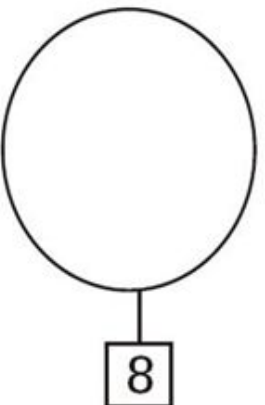


$3 + 5 = 8$



TRASCRIVI SUL QUADERNO E COMPLETA, SEGUENDO L'ESEMPIO



$$6 + 3 = 9$$

ESERCITATI ORALMENTE A CONTARE DA 0 A 10 E DA 10 A 0

SCIENZE 1A-1B

- Quaderno viola: completa le due schede su tatto e vista

1A, 1B, 1C

- E adesso giochiamo!

<https://learningapps.org/display?v=pun45k0zt20>

<https://learningapps.org/display?v=p6dfv980320>